



پیک آدینه



شماره: هفته چهارم بهمن

پایه: چهارم

نام و نام خانوادگی:

ولادت حضرت زینب (س) و روز پرستار مبارک



دستان و پیش دستان غیر دولتی و احترام صدر

۱) از درس دهم «باغچه ی اطفال» و درس یازدهم «فرمانده دل ها، ۲۰ لغت برای

تمرین املا بنویسید.

.....

.....

.....

.....

۲) با واژه های زیر جمله بساز.

الف) جابه جا:

ب) روبه رو:

ج) دست به دست:

۳) معنی بیت های زیر را بنویسید.

مادر موسی، چو موسی را به نیل درفکند، از گفته ی ربّ جلیل

وحی آمد: «کاین چه فکر باطل است؟» رهرو ما، اینک اندر منزل است

ما گرفتیم آن چه را انداختی دست حق را دیدی و نشناختی؟

سطح آب از گاهوارش خوش تر است دایه اش سیلاب و موجش مادر است

۴) روز مبعث چه روزی است؟

۵) حضرت محمد (ص) برای تفکّر و راز و نیاز به کجا می رفت؟

۱) یک مثلث متساوی الاضلاع چند نوع زاویه دارد؟

- الف) یک نوع ب) دونوع ج) سه نوع د) مشخص نیست

۲) یک درجه چه کسری از نقاله است؟

- الف) $\frac{1}{90}$ ب) $\frac{1}{180}$ ج) $\frac{1}{360}$ د) $\frac{1}{45}$

۳) مجموع زاویه های داخلی یک هشت ضلعی چند درجه است؟

- الف) 1440° ب) 1080° ج) 720° د) 900°

۴) مجموع زاویه های کدام یک از چندضلعی های زیر ۲ برابر دایره است؟

- الف) چهارضلعی ب) هشت ضلعی

- ج) شش ضلعی د) سه ضلعی

۵) زمانی که عقربه ی دقیقه شمار صفحه ی ساعت را $\frac{1}{4}$ دور طی می کند،

عقربه ی ثانیه شمار چند دور کامل صفحه ی ساعت را طی می کند؟

- الف) ۴۵ دور ب) ۶۰ دور

- ج) ۵ دور د) ۱۵ دور

۶) پریسا از مهدیه ۲ ماه و ۱۲ روز بزرگ تر است.

الف) پریسا چند روز از مهدیه بزرگ تر است؟

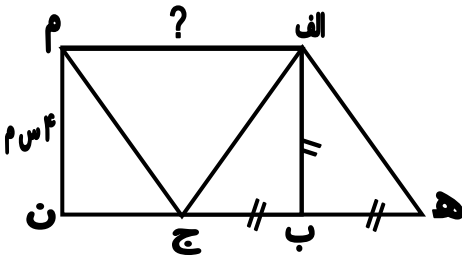
ب) پریسا چند ساعت از مهدیه بزرگ تر است؟

ج) پریسا چند دقیقه از مهدیه بزرگ تر است؟

۷) طول پاره خطی که با علامت «؟» در شکل زیر مشخص شده است چقدر است؟

مثلث «الف ه ب» و «الف ب ج» متساوی الساقین هستند و مثلث «الف ه ج» مساوی

مثلث «الف ج م» و «الف ب ن م» مستطیل است.



۱) روده ی کوچک و روده ی بزرگ هر کدام چه نقشی در انجام گوارش دارند؟

۲) گرد و غبار در کدام بخش از دستگاه تنفس گرفته می شود؟ چگونه؟

۳) نقش گلبول های سفید و دارو در دفاع از بدن چه تفاوتی دارد؟

۴) مواد سمّی از چه راه هایی از بدن خارج می شوند؟

۵) کار قلب را توضیح دهید.

(۱) کار مهم اشکانیان را بنویسید.

(۲) سورنا و آریو برزن هر کدام چه کار ارزشمندی انجام دادند؟

(۳) خسرو انوشیروان که بود و در زمان او چه اتفاقی افتاد؟

(۴) چرا مردم ایران دین اسلام را پذیرفتند؟


(۵) از آثار باستانی که در کرمانشاه وجود دارد نام ببرید؟

(۶) دانشگاه جندی شاپور در چه دوره تأسیس شده بود؟

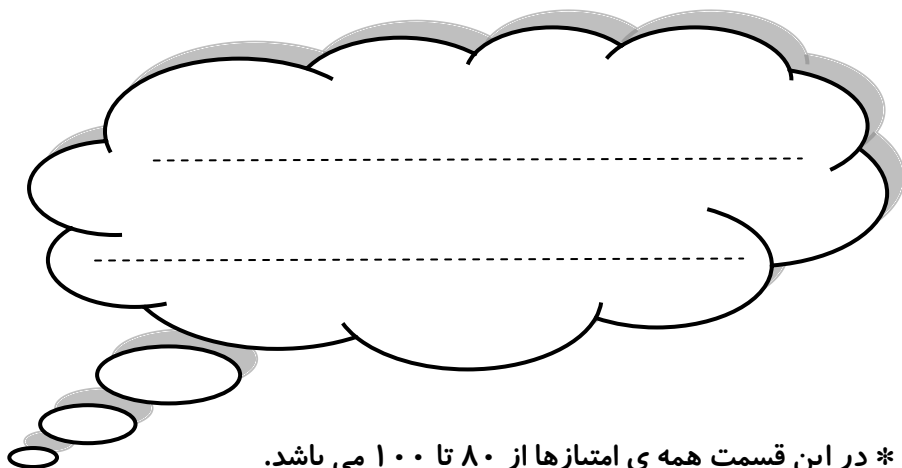
عزیزم با اضافه کردن خطوطی به داخل یا خارج دایره شکل هایی بکشید.

توجه داشته باشید که هر شکل باید با شکل دیگر متفاوت باشد. نام هر شکل زیر

آن نوشته شود.



ولی محترم لطفاً نظر خود را در رابطه با پیک این هفته برایمان بنویسید.



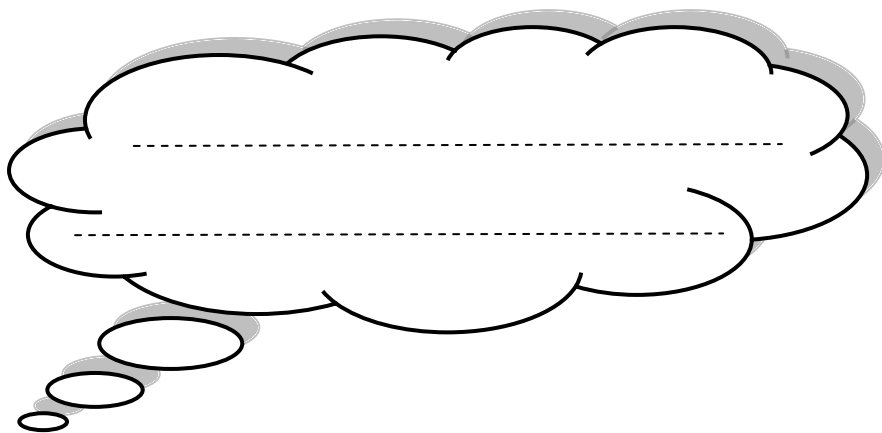
* در این قسمت همه ی امتیازها از ۸۰ تا ۱۰۰ می باشد.

- نازنینم، به زیبانویسی خود در پیک چه امتیازی می دهی؟

- مهربونم، در حل آن به خودت چه امتیازی می دهی؟

- عزیزدلم، مطالب را به خوبی فراگرفته ای؟

* نظرت درباره پیک:



افراد برتر هفته ...

